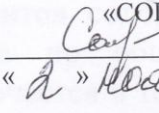




**Муниципальное автономное общеобразовательное учреждение
«Средняя общеобразовательная школа № 15
г. Балашова Саратовской области»**

<p>«Согласовано» Заместитель руководителя по УВР МАОУ «СОШ №15»  Соловова Е.А. « 4 » ноября 2018 г.</p>	<p>«Утверждаю» Руководитель МО «СОШ № 15»  Неперихина Г.И. Приказ № 397 от « 6 » ноября 2018 г.</p>
--------------------------------------------------------------------------------------------------------------------------------------------------------------------------------------------------------------	------------------------------------------------------------------------------------------------------------------------------------------------------------------------------------------------------------



ДЕМОНСТРАЦИОННАЯ ВЕРСИЯ

ГЕОГРАФИЯ

**2018-2019 УЧЕБНЫЙ ГОД
8 КЛАСС**

1. С какой из перечисленных стран Россия имеет сухопутную границу?

- 1) Швеция
- 2) Эстония
- 3) Иран
- 4) Таджикистан

2. Какие из перечисленных островов входят в состав территории Российской Федерации?

- 1) архипелаг Шпицберген
- 2) архипелаг Северная Земля
- 3) Алеутские острова
- 4) Марианские острова

3. С какой из перечисленных стран Россия имеет сухопутную границу?

- 1) Молдавия
- 2) Венгрия
- 3) Белоруссия
- 4) Армения

4. Большую часть территории какого из перечисленных регионов России занимают леса?

- 1) Республика Калмыкия
- 2) Республика Коми
- 3) Чукотский АО
- 4) Волгоградская область

5. В каком из перечисленных городов России зимы наиболее холодные?

- 1) Санкт-Петербург
- 2) Мурманск
- 3) Норильск
- 4) Ростов-на-Дону

6. В каком из перечисленных городов России выпадает наибольшее среднегодовое количество атмосферных осадков?

- 1) Казань

- 2) Калининград
- 3) Екатеринбург
- 4) Омск

7. В каком из перечисленных регионов России средняя температура воздуха в июле самая высокая?

- 1) Астраханская область
- 2) Пермский край
- 3) Чувашская Республика
- 4) Приморский край

8. Какой из перечисленных городов России является крупным центром автомобилестроения?

- 1) Архангельск
- 2) Тамбов
- 3) Череповец
- 4) Нижний Новгород

9. Каким из перечисленных полезных ископаемых наиболее богаты недра Центральной России?

- 1) алюминиевые руды
- 2) природный газ
- 3) каменный уголь
- 4) железные руды

10. Какие из перечисленных электростанций являются тепловыми?

- 1) Курская и Тверская
- 2) Красноярская и Братская
- 3) Зейская и Усть-Илимская
- 4) Сургутская и Тюменская

11. Какой из перечисленных городов России является крупным центром алюминиевой промышленности?

- 1) Ставрополь
- 2) Тамбов
- 3) Красноярск
- 4) Рязань

12. Определите, какой город (административный центр субъекта РФ) имеет географические координаты 43° с.ш. 132° в.д.

13. Туристические фирмы разных регионов России разработали слоганы (рекламные лозунги) для привлечения туристов в свои регионы. Установите соответствие между слоганом и регионом.

СЛОГАН

- А) Здесь можно увидеть дельту крупнейшей реки Русской равнины!
Б) Мы предлагаем сплав по реке Катунь, которая берёт начало в ледниках высочайшей горы Сибири!

РЕГИОН

- 1) Астраханская область
2) Краснодарский край
3) Республика Алтай
4) Самарская область

Запишите ответ цифрами

А	Б

14. Туристические фирмы разных регионов России разработали слоганы (рекламные лозунги) для привлечения туристов в свои регионы. Установите соответствие между слоганом и регионом.

СЛОГАН

- А) Приглашаем в край голубых озёр и рек, в край белых ночей! Посетите памятники культуры Киж и Валаам!
Б) Посетите города-курорты нашего региона, по своему разнообразию и ценности минеральных вод и лечебной грязи не имеющие аналогов в Европе!

РЕГИОН

- 1) Республика Карелия
2) Ставропольский край
3) Тюменская область
4) Самарская область

Запишите ответ цифрами

А	Б

15. В каком из перечисленных городов 21 марта Солнце раньше всего по московскому времени поднимется над горизонтом?

- 1) Вологда
2) Уфа
3) Рязань
4) Воронеж

Школьники из нескольких населённых пунктов России обменялись данными, полученными на местных метеостанциях 22 января 2013 г. Собранные ими данные представлены в следующей таблице.

Название пункта	Географические координаты	Продолжительность дня	Высота Солнца над горизонтом в полдень	Среднесуточная температура воздуха
Вологда	59° с.ш. 39° в.д.	7 ч 22 мин.	11,1°	-18 °С
Уфа	55° с.ш. 56° в.д.	8 ч 13 мин.	15,8°	-6 °С
Рязань	55° с.ш. 39° в.д.	8 ч 13 мин.	15,8°	-16 °С
Воронеж	51° с.ш. 39° в.д.	8 ч 38 мин.	18,7°	-8 °С

16. Определите регион России по его краткому описанию.

Эта республика расположена в зоне тайги. Особенностью её экономико-географического положения является наличие выхода к Государственной границе Российской Федерации и выхода к морю. На территории республики находится морской порт. Республика специализируется на производстве пиломатериалов, целлюлозы, бумаги, железорудных окатышей, алюминия.

Ответ: Республика _____.

17. Определите регион по его краткому описанию.

Эта область расположена в зонах южной тайги и смешанных лесов. По территории протекает самая протяжённая река Европейской части России. На этой реке находится административный центр области — крупный центр российского и международного туризма, один из городов «Золотого кольца» России с численностью населения около 600 тыс. человек. Ведущие отрасли промышленности: машиностроение и химическая (производство шин, синтетического каучука и смол, лаков и красок). Развита нефтеперерабатывающая и топливная, лёгкая (льняная и хлопчатобумажная), пищевая промышленность. Основная отрасль сельского хозяйства — животноводство (молочно-мясное скотоводство, свиноводство, птицеводство). Выращивают рожь, картофель, овощи, кормовые культуры, лён-долгунец.

Ответ: _____ область.

1. Ключ:

№ задания	ответ	Количество баллов за ответ
1	1	1
2	2	1
3	3	1
4	2	1
5	3	1
6	2	1
7	1	1
8	4	1
9	4	1
10	4	1
11	3	1
12	Владивосток	1
13	13	2
14	12	2
15	2	1
16	Карелия	1
17	Ярославль	1

Результаты

Количество баллов	19-15	14-11	10-7	6-1
Оценка	5	4	3	2